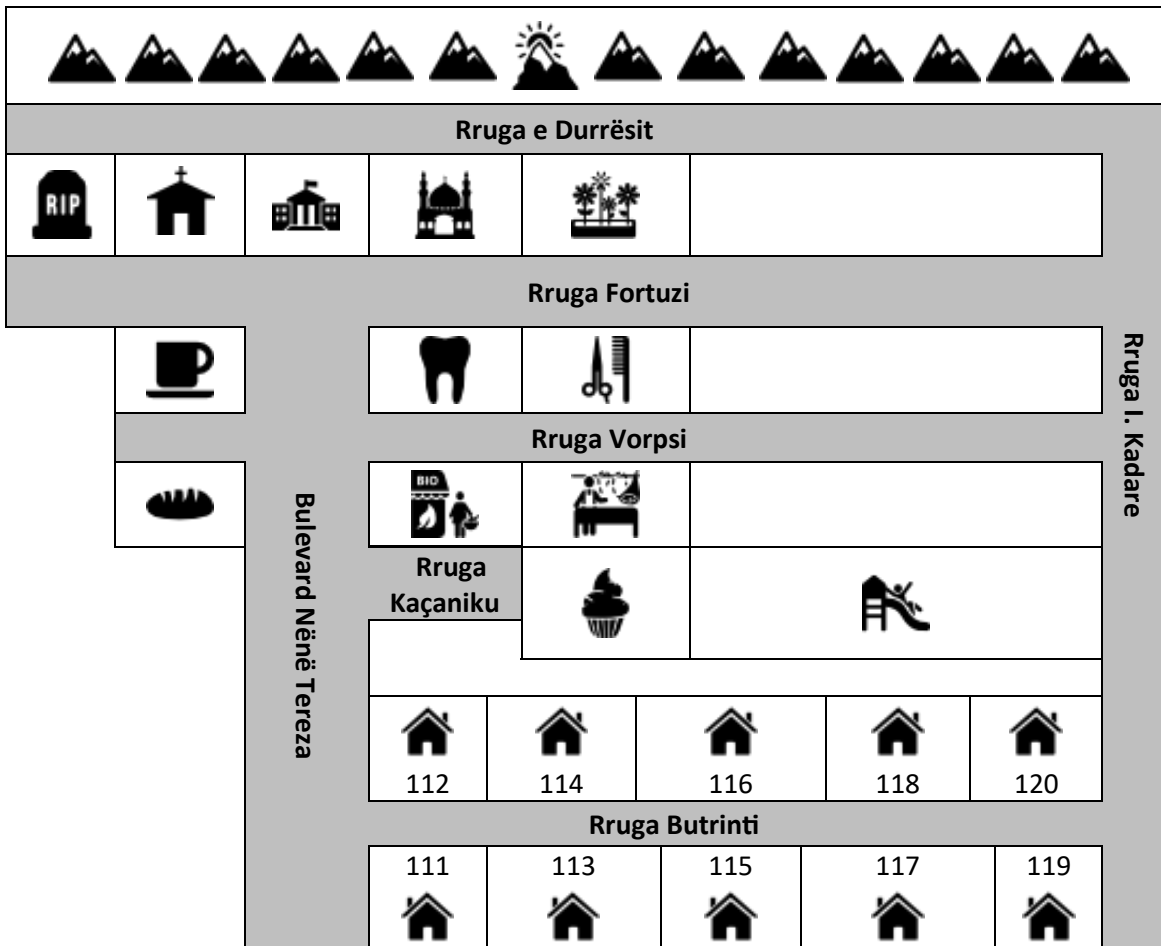


(C) All Roads Lead to Tirana (1/3) [20 points]




Icons made by Scott de Jonge, Pixel perfect, and Freepik from www.flaticon.com.



You are visiting an Albanian¹ town close to Tirana. The man at the information center tells you some information about what places are in the town and where they are on the map above. You are both looking at the map from the same perspective as it is shown here, so (for example) a dentist is in front of the mosque, behind the market, to the left of the barbershop, and to the right of the cafe. Note that the man only comments on buildings that are immediate neighbors (perhaps across a street); for example, he might say that the bakery is to the left of the market, but he would not say that the bakery is to the left of the butcher even though that is technically true. Also, he does not talk about diagonal neighbors, so for example he would not say anything about the butcher's relationship to the dentist.

1. Albania is a Balkan country of close to 3 million people with Western coastlines along both the Adriatic and Ionian Seas.



(C) All Roads Lead to Tirana (2/3)

Here is what the man said to you:

Kafeneja është ndërmjet kishës dhe furrës dhe majtas nga dhëmbëtarit.

Bashkia e qytetit është ndërmjet kishës dhe xhamisë.

Dhëmbëtari është majtas nga floktorit dhe para xhamisë.

Dyqani është para dhëmbëtarit dhe majtas nga mishtorja.








Mishtorja është pas ëmbëlsirës.








Kopsht është djathtas nga xhamia dhe para maleve.

Sheshi lojërash është djathtas nga ëmbëlsira.

C1. Match the Albanian place name with the English translation based on the information above and write the matching letter next to the corresponding number.

1. Bashkia e qytetit
2. Dhëmbëtar
3. Ëmbëlsirë
4. Furrë
5. Kafene
6. Mishtore
7. Kishë
8. Kopsht
9. Male
10. Floktor
11. Shesh lojërash
12. Dyqan
13. Varrezë
14. Xhami

	Bakery	A.
	Barbershop	B.
	Butcher	C.
	Cafe	D.
	Cemetery	E.
	Church	F.
	City Hall	G.

	Dentist	H.
	Garden	I.
	Confectionery	J.
	Market	K.
	Mosque	L.
	Mountains	M.
	Playground	N.

1. 2. 3. 4. 5. 6. 7.
8. 9. 10. 11. 12. 13. 14.



(C) All Roads Lead to Tirana (3/3)

C2. You receive the following directions for a tour:

Filloni në cep të rrugëve rruga e Durrësit dhe rruga I. Kadare.
Shkoni drejt në rrugën e Durrësit në vendin e pestë në të majtë (në fund të rrugës).
Shkoni nëpër varrezën.
Kthehuni majtas në rrugën Fortuzi. Kafeneja është vendi i parë në të djathtë.
Shkoni në vendin e tretë në të djathtë.
Shkoni nëpër floktorin dhe kthehuni djathtas.
Shkoni në vendin e dytë në të djathtë.
Mos shkoni nëpër kafenen.
Kthehuni prapa dhe kaloni bulevardin Nënë Tereza.
Dyqani është vendi i parë në të djathtë. Floktori është vendi i dytë në të majtë.
Shkoni deri në fund të rrugës.
Kthehuni djathtas.

Hint: The tour goes along roads and through locations.

At the end of the tour, if you keep walking, what will be the first site (not considering empty lots) on your right that you come to? Write the name of the place in English.

C3. You want to invite all of the new people you have met to go to the café. You know that they all live on Rruga Butrinti but you aren't sure who lives in which house. You go to the corner of Bulevard Nënë Tereza and Rruga Butrinti to ask for directions. A lady there tells you the following while pointing up the road:

Drita jeton në shtëpinë e dytë në të majtë.
Kustrimi jeton në shtëpinë e pestë në të majtë.
Lindita jeton në shtëpinë e katërt në të djathtë.
Sokoli jeton në shtëpinë e parë në të djathtë.
Valoni jeton në shtëpinë e tretë në të majtë.

Next to each person's name write that person's house number.

Drita:

Kustrim:

Lindita:

Sokol:

Valon:

